

<問題>

金属管と塩ビ管、どちらが速く磁石が落ちるか。

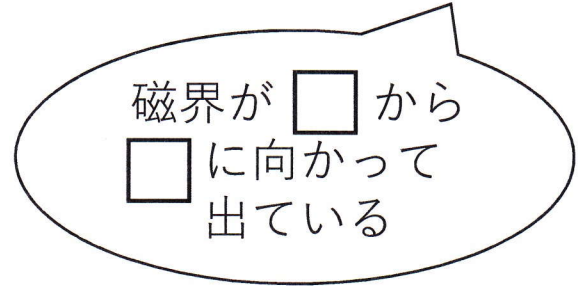

A. 金属管 B. 塩ビ管 C. 変わらない

予想

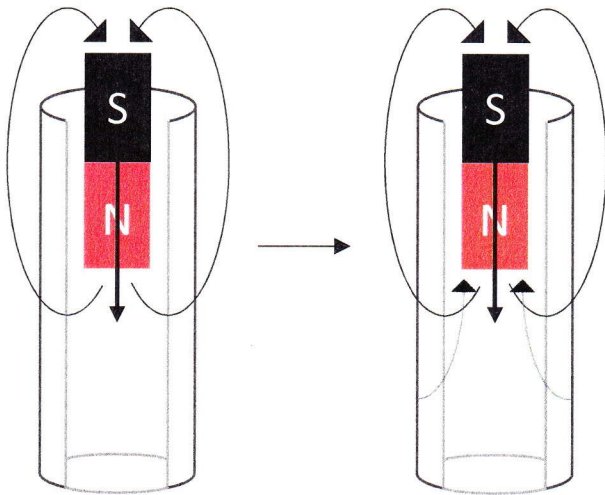
結果

Q. 銅管と塩ビ管で何が違うか

磁界について



筒の中を通ると...



向きに磁力が発生する！

<考察>